

**Musterlösung der Blatt 8 zur Vorlesung „Einführung in die mathematische
Behandlung der Naturwissenschaften I“**

1. Gegeben seien die Matrizen $A = \begin{pmatrix} 1 & 7 \\ 2 & 0 \\ 3 & 2 \end{pmatrix}$, $B = \begin{pmatrix} 1 & 2 & 0 \\ 0 & 1 & 1 \\ 0 & 2 & 1 \end{pmatrix}$ und $C = \begin{pmatrix} 1 & 2 & 3 \\ 5 & 0 & 2 \end{pmatrix}$.

Berechnen Sie $(AC)B$, $A(CB)$:

Lösung

$$AC = \begin{pmatrix} 1 & 7 \\ 2 & 0 \\ 3 & 2 \end{pmatrix} \begin{pmatrix} 1 & 2 & 3 \\ 5 & 0 & 2 \end{pmatrix} = \begin{pmatrix} 1+35 & 2 & 3+14 \\ 2 & 4 & 6 \\ 3+10 & 6 & 9+4 \end{pmatrix} = \begin{pmatrix} 36 & 2 & 17 \\ 2 & 4 & 6 \\ 13 & 6 & 13 \end{pmatrix}$$

$$(AC)B = \begin{pmatrix} 36 & 2 & 17 \\ 2 & 4 & 6 \\ 13 & 6 & 13 \end{pmatrix} \begin{pmatrix} 1 & 2 & 0 \\ 0 & 1 & 1 \\ 0 & 2 & 1 \end{pmatrix} = \begin{pmatrix} 36 & 72+2+34 & 2+17 \\ 2 & 4+4+12 & 4+6 \\ 13 & 26+6+26 & 6+13 \end{pmatrix} = \begin{pmatrix} 36 & 108 & 19 \\ 2 & 20 & 10 \\ 13 & 58 & 19 \end{pmatrix}$$

$$CB = \begin{pmatrix} 1 & 2 & 3 \\ 5 & 0 & 2 \end{pmatrix} \begin{pmatrix} 1 & 2 & 0 \\ 0 & 1 & 1 \\ 0 & 2 & 1 \end{pmatrix} = \begin{pmatrix} 1 & 2+2+6 & 2+3 \\ 5 & 10+4 & 2 \end{pmatrix} \begin{pmatrix} 1 & 10 & 5 \\ 5 & 14 & 2 \end{pmatrix}$$

$$A(CB) = \begin{pmatrix} 1 & 7 \\ 2 & 0 \\ 3 & 2 \end{pmatrix} \begin{pmatrix} 1 & 10 & 5 \\ 5 & 14 & 2 \end{pmatrix} = \begin{pmatrix} 1+35 & 10+98 & 5+14 \\ 2 & 20 & 10 \\ 3+10 & 30+28 & 15+4 \end{pmatrix} = \begin{pmatrix} 36 & 108 & 19 \\ 2 & 20 & 10 \\ 13 & 58 & 19 \end{pmatrix}$$

2. !!!!! BONUS Aufgabe !!!!!

Abgabe - bis 12.00 Uhr, Dienstag, 14.12.2021.

Ergebnisse - ab Mittwoch, 15.12.2021.

Die spezifische Leitfähigkeit eines Materials werde durch den Tensor (\cong Matrix) der Gestalt

$$\sigma = \begin{pmatrix} \sigma_{xx} & \sigma_{xy} & 0 \\ \sigma_{yx} & \sigma_{yy} & 0 \\ 0 & 0 & \sigma_{zz} \end{pmatrix}$$

mit $\sigma_{yx} = -\sigma_{xy}$ und $\sigma_{xx} = \sigma_{yy}$ beschrieben. Welche Stromdichte \vec{j} ergibt sich aus dem Ohmschen Gesetz $\vec{j} = \sigma \cdot \vec{E}$ für eine elektrische Feldstärke $\vec{E} = \begin{pmatrix} 5 \\ 2 \\ 4 \end{pmatrix}$?

Die Vektoren $\vec{a} = \begin{pmatrix} 2 \\ 0 \\ 1 \end{pmatrix}$ und $\vec{b} = \begin{pmatrix} 0 \\ 4 \\ 0 \end{pmatrix}$ spannen ein Rechteck mit der (orientierten) Fläche $\vec{A} = \vec{a} \times \vec{b}$ auf. Welcher Strom $I = \vec{j} \cdot \vec{A}$ tritt durch dessen Fläche?

Sind \vec{j} und \vec{E} parallel?

Lösung

$$\sigma = \begin{pmatrix} \sigma_{xx} & \sigma_{xy} & 0 \\ \sigma_{yx} & \sigma_{yy} & 0 \\ 0 & 0 & \sigma_{zz} \end{pmatrix} = \begin{pmatrix} \sigma_{xx} & \sigma_{xy} & 0 \\ -\sigma_{xy} & \sigma_{xx} & 0 \\ 0 & 0 & \sigma_{zz} \end{pmatrix}$$

$$\vec{j} = \sigma \cdot \vec{E} = \begin{pmatrix} \sigma_{xx} & \sigma_{xy} & 0 \\ -\sigma_{xy} & \sigma_{xx} & 0 \\ 0 & 0 & \sigma_{zz} \end{pmatrix} \begin{pmatrix} 5 \\ 2 \\ 4 \end{pmatrix} = \begin{pmatrix} 5\sigma_{xx} + 2\sigma_{xy} \\ -5\sigma_{xy} + 2\sigma_{xx} \\ 4\sigma_{zz} \end{pmatrix}$$

$$\vec{A} = \vec{a} \times \vec{b} = \begin{pmatrix} 2 \\ 0 \\ 1 \end{pmatrix} \times \begin{pmatrix} 0 \\ 4 \\ 0 \end{pmatrix} = \begin{pmatrix} -4 \\ 0 \\ 8 \end{pmatrix}$$

$$I = \vec{j} \cdot \vec{A} = \begin{pmatrix} 5\sigma_{xx} + 2\sigma_{xy} \\ -5\sigma_{xy} + 2\sigma_{xx} \\ 4\sigma_{zz} \end{pmatrix} \cdot \begin{pmatrix} -4 \\ 0 \\ 8 \end{pmatrix} = -4(5\sigma_{xx} + 2\sigma_{xy}) + 32\sigma_{zz} = -20\sigma_{xx} - 8\sigma_{xy} + 32\sigma_{zz}$$

\vec{j} und \vec{E} sind nicht parallel?

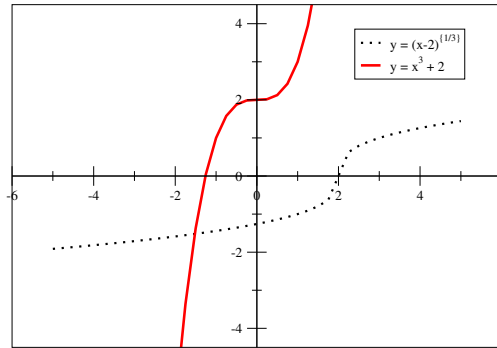
3. Bestimmen Sie Symmetrie, Periodizität und skizzieren Sie den Graphen der folgenden Funktionen. Untersuchen Sie die Funktionen außerdem auf Bijektivität. Falls diese nicht gegeben ist schränken Sie Definitions- bzw. Wertebereich soweit ein, bis Bijektivität erreicht ist. Bestimmen Sie dann die Umkehrfunktionen.

- a) $f: \mathbb{R} \rightarrow \mathbb{R}, x \mapsto x^3 + 2$ b) $f: \mathbb{R} \rightarrow \mathbb{R}, x \mapsto 3x - 4$ c) $f: \mathbb{R} \rightarrow (-\infty, 1], x \mapsto 1 - x^2$
 d) $f: \mathbb{R} \setminus \{1\} \rightarrow \mathbb{R} \setminus \{0\}, x \mapsto \frac{1}{x-1}$ e) $f: \mathbb{R} \rightarrow \mathbb{R}^+ \cup \{0\}, x \mapsto |x|$

Lösung

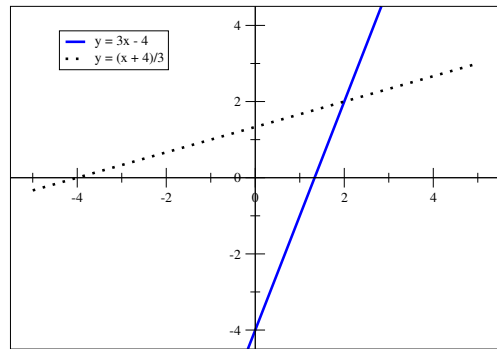
a)
 Unsymmetrisch
 Unperiodisch

Bijektive
 Umkehrfunktion:
 $f: \mathbb{R} \rightarrow \mathbb{R}, y = \sqrt[3]{x-2}$.



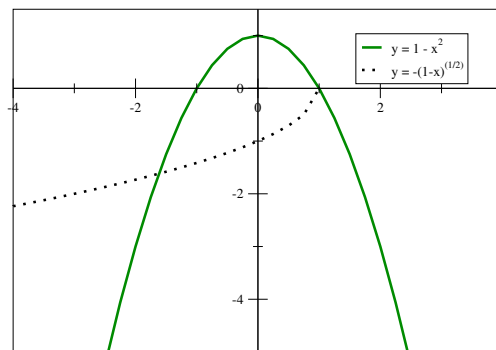
b)
 Unsymmetrisch
 Unperiodisch

Bijektive
 Umkehrfunktion:
 $f: \mathbb{R} \rightarrow \mathbb{R}, y = \frac{x+4}{3}$.



c)
 Symmetrisch
 Unperiodisch

Surjektive
 Bijektive für: 1) $x \geq 0, y \leq 1$
 oder 2) $x \leq 0, y \leq 1$
 Umkehrfunktionen:
 1) $f: (-\infty, 1] \rightarrow \mathbb{R}^+ \cup \{0\}, y = \sqrt{1-x}$;
 2) $f: (-\infty, 1] \rightarrow \mathbb{R}^- \cup \{0\}, y = -\sqrt{1-x}$.

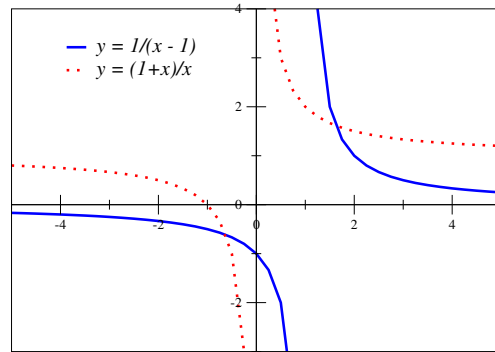


d)
Unsymmetrisch
Unperiodisch

Bijektive

Umkehrfunktion:

$$f: \mathbb{R} \setminus \{0\} \rightarrow \mathbb{R} \setminus \{1\}, y = \frac{1+x}{x}$$



e)
Symmetrisch
Unperiodisch

Surjektive

Bijektive für: 1) $x \geq 0$ oder 2) $x \leq 0$

Umkehrfunktionen:

1) $f: \mathbb{R}^+ \cup \{0\} \rightarrow \mathbb{R}^+ \cup \{0\}, y = x;$

2) $f: \mathbb{R}^- \cup \{0\} \rightarrow \mathbb{R}^+ \cup \{0\}, y = -x.$

