

Musterlösung der Blatt 9 zur Vorlesung „Einführung in die mathematische
Behandlung der Naturwissenschaften I“

1. Bilden Sie die Verkettung der Funktionen f und g , $f \circ g$ für:

a) $f: D(f) \rightarrow W(f)$, $x \mapsto x^3 - 3x - 1$; $g: D(g) \rightarrow W(g)$, $x \mapsto x^2 + 1$

Lösung

$$D(f \circ g) = \{x \mid x \in D(g) \wedge g(x) \in D(f)\}$$

$$(f \circ g)(x) = f(g(x)) = (x^2 + 1)^3 - 3(x^2 + 1) - 1 = x^6 + 3x^4 - 3;$$

$$g: \mathbb{R} \rightarrow [1, \infty[; \quad f: \mathbb{R} \rightarrow \mathbb{R};$$

$$f \circ g: \mathbb{R} \rightarrow [-3, \infty[;$$

b) $f: D(f) \rightarrow W(f)$, $x \mapsto \sqrt{x-1}$; $g: D(g) \rightarrow W(g)$, $x \mapsto 1-x^2$

Lösung

$$(f \circ g)(x) = f(g(x)) = \sqrt{(1-x^2)-1} = \sqrt{-x^2};$$

$$g: \mathbb{R} \rightarrow]-\infty, 1]; \quad f: [1, \infty[\rightarrow \mathbb{R}^+ \cup \{0\};$$

$$\text{Nur } g(0) = 1 \in D(f)$$

$$f \circ g: \{0\} \rightarrow \{0\};$$

c) $f: D(f) \rightarrow W(f)$, $x \mapsto \sqrt{x}$; $g: D(g) \rightarrow W(g)$, $x \mapsto x^2$

Lösung

$$(f \circ g)(x) = f(g(x)) = \sqrt{x^2} = |x|;$$

$$g: \mathbb{R} \rightarrow \mathbb{R}^+ \cup \{0\}; \quad f: \mathbb{R}^+ \cup \{0\} \rightarrow \mathbb{R}^+ \cup \{0\};$$

$$f \circ g: \mathbb{R} \rightarrow \mathbb{R}^+ \cup \{0\};$$

2. Stellen Sie die folgenden Funktionen als Verkettung möglichst vieler elementarer Funktionen dar und geben Sie deren Definitions- und Wertebereiche jeweils zusammenpassend an.

a) $f: \mathbb{R} \rightarrow [-1, 1], x \mapsto [\cos(x^3 + 1)]^3$

Lösung

$$g: \mathbb{R} \rightarrow \mathbb{R}, x \mapsto x^3 + 1;$$

$$q: \mathbb{R} \rightarrow [-1, 1], x \mapsto \cos x;$$

$$h: \mathbb{R} \rightarrow \mathbb{R}, x \mapsto x^3.$$

$$(h \circ q \circ g)(x) = h(q(g(x))) : \mathbb{R} \rightarrow [-1, 1]$$

b) $f: \mathbb{R} \setminus \{0\} \rightarrow [-1, 1], x \mapsto \cos(\ln x^2)$

Lösung

$$g: \mathbb{R} \rightarrow \mathbb{R}^+ \cup \{0\}, x \mapsto x^2;$$

$$q: \mathbb{R}^+ \rightarrow \mathbb{R}, x \mapsto \ln x;$$

$$h: \mathbb{R} \rightarrow [-1, 1], x \mapsto \cos x.$$

$$(h \circ q \circ g)(x) = h(q(g(x))) : \mathbb{R} \setminus \{0\} \rightarrow [-1, 1]$$

3. Suchen Sie zu folgenden Zahlenfolgen eine Gesetzmäßigkeit (*Berechnungsvorschrift für das allgemeine Glied a_n*). Überprüfen Sie die Folgen auf Monotonie, Beschränktheit, Konvergenz und bestimmen Sie ggf. den Grenzwert:
(Falls kein Grenzwert existiert – versuchen Sie eine konvergente Teilfolge zu finden.)

a) $\frac{9}{4}, \frac{7}{9}, \frac{5}{16}, \frac{3}{25}, \frac{1}{36}, \dots$

Lösung

$$a_n = \frac{11 - 2n}{(n + 1)^2} \quad \text{für } n = 1, 2, \dots$$

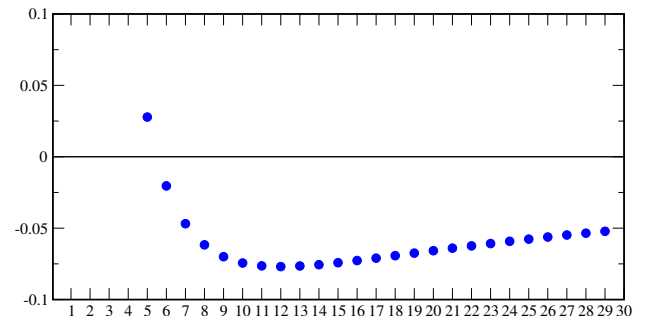
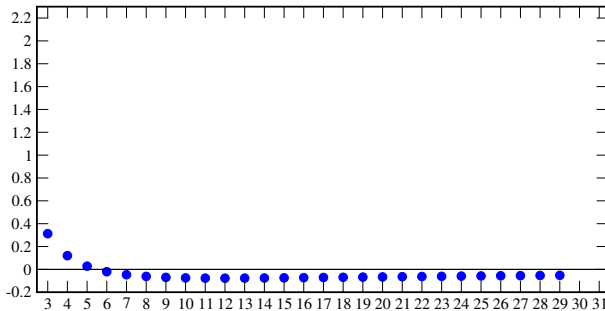
$$a_{n+1} - a_n = \frac{2n^2 - 20n - 35}{(n+2)^2(n+1)^2}$$

monoton fallend für $n < 12$; ($a_{n+1} - a_n < 0$)

monoton wachsend für $n \geq 12$; ($a_{n+1} - a_n > 0$)

beschränkt; für $n \geq 12$ $-\frac{1}{13} \leq a_n \leq 0$

$$\lim_{n \rightarrow \infty} \frac{11 - 2n}{(n + 1)^2} = \frac{n^2(\frac{11}{n^2} - \frac{2}{n})}{n^2(1 + \frac{2}{n} + \frac{1}{n^2})} = 0.$$



b) $1, -2, \frac{1}{2}, -3, \frac{1}{4}, -4, \frac{1}{8}, -5, \frac{1}{16}, \dots$

Lösung

$$a_n = \frac{1}{2^{\frac{n-1}{2}}} \cdot \left(\frac{1 - (-1)^n}{2} \right) - \frac{n+2}{2} \cdot \left(\frac{1 - (-1)^{n+1}}{2} \right);$$

nicht monoton fallend(wachsend); nicht beschränkt; nicht konvergent

Sei $n_k = 1, 3, 5, 7, \dots$;

dann Teilfolge:

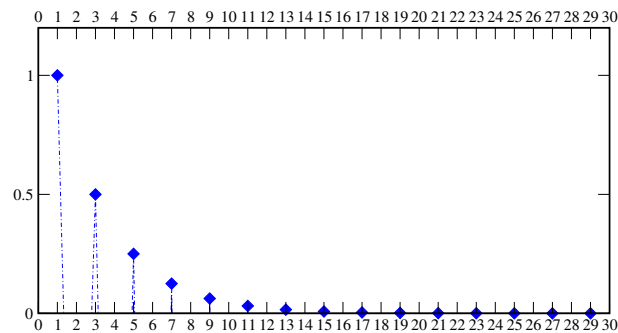
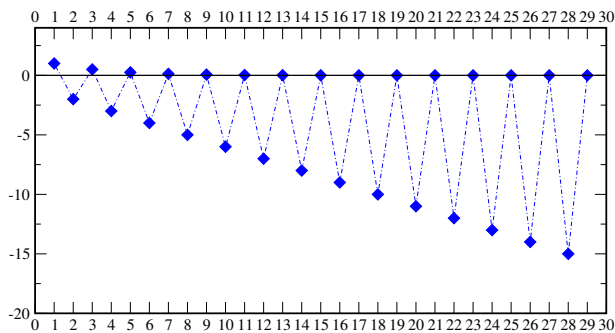
$$\{a_{n_k}\} \text{ mit } a_{n_k} = \frac{1}{2^{\frac{n_k-1}{2}}}$$

monoton fallend; $a_{n_{k+2}} - a_{n_k} = -\frac{1}{2^{\frac{n_k+1}{2}}} < 0$ für alle $n_k = 1, 3, 5, \dots$

$0 \leq a_{n_k} \leq 1 \Rightarrow$ beschränkt

und konvergent

$$\lim_{n_k \rightarrow \infty} \frac{1}{2^{\frac{n_k-1}{2}}} = 0.$$



c) $\sqrt{2}, \sqrt{2\sqrt{2}}, \sqrt{2\sqrt{2\sqrt{2}}}, \dots$

Lösung

$$\sqrt{2}, \sqrt{2\sqrt{2}}, \sqrt{2\sqrt{2\sqrt{2}}}, \dots \rightarrow 2^{\frac{1}{2}}, 2^{\frac{1}{2}}2^{\frac{1}{4}}, 2^{\frac{1}{2}}2^{\frac{1}{4}}2^{\frac{1}{8}}, \dots \rightarrow 2^{\frac{1}{2}}, 2^{\frac{3}{4}}, 2^{\frac{7}{8}}, \dots \rightarrow 2^{1-\frac{1}{2}}, 2^{1-\frac{1}{4}}, 2^{1-\frac{1}{8}}, \dots$$

$$a_n = 2^{1-\frac{1}{2^n}}; \text{ für } n = 1, 2, \dots$$

$$\text{monoton wachsend; } a_{n+1} - a_n = 2^{1-\frac{1}{2^n}} \left(\sqrt{2^{\frac{1}{2^n}}} - 1 \right) > 0 \text{ für } n = 1, 2, \dots$$

$$\text{beschränkt } \sqrt{2} \leq a_n = 2^{1-\frac{1}{2^n}} = \frac{2}{2^{\frac{1}{2^n}}} \leq 2$$

und konvergent

$$\lim_{n \rightarrow \infty} 2^{1-\frac{1}{2^n}} = 2.$$

