

Musterlösung der Blatt 10 zur Vorlesung „Einführung in die mathematische
Behandlung der Naturwissenschaften I“

1. Bestimmen Sie – falls vorhanden – die Grenzwerte

a) $\lim_{x \rightarrow 2} \frac{x^2 - 5x + 6}{x^2 - 12x + 20}$ b) $\lim_{x \rightarrow \infty} x(\sqrt{x^2 + 1} - x)$

c) $\lim_{x \rightarrow 0} \frac{2(1 - \cos x)}{x^2 \cos x}$ d) $\lim_{n \rightarrow \infty} \frac{\sqrt{n^2 + 1} + \sqrt{n}}{\sqrt[4]{n^3 + n} - n}$

Lösung

a)

$$\lim_{x \rightarrow 2} \frac{x^2 - 5x + 6}{x^2 - 12x + 20} = \lim_{x \rightarrow 2} \frac{x^2 - 2x - 3x + 6}{x^2 - 2x - 10x + 20} = \lim_{x \rightarrow 2} \frac{(x-2)(x-3)}{(x-2)(x-10)} = \lim_{x \rightarrow 2} \frac{x-3}{x-10} = \frac{1}{8}$$

l'Hospital Regel:

$$\lim_{x \rightarrow 2} \frac{x^2 - 5x + 6}{x^2 - 12x + 20} = \lim_{x \rightarrow 2} \frac{(x^2 - 5x + 6)'}{(x^2 - 12x + 20)'} = \lim_{x \rightarrow 2} \frac{2x - 5}{2x - 12} = \frac{-1}{-8} = \frac{1}{8}$$

b)

$$\lim_{x \rightarrow \infty} x(\sqrt{x^2 + 1} - x) = \lim_{x \rightarrow \infty} \frac{x(\sqrt{x^2 + 1} - x)(\sqrt{x^2 + 1} + x)}{(\sqrt{x^2 + 1} + x)} = \lim_{x \rightarrow \infty} \frac{1}{\sqrt{1 + \frac{1}{x^2}} + 1} = \frac{1}{2}$$

c)

$$\begin{aligned}\lim_{x \rightarrow 0} \frac{2(1 - \cos x)}{x^2 \cos x} &= \lim_{x \rightarrow 0} \frac{2(1 - \cos x)(1 + \cos x)}{x^2 \cos x(1 + \cos x)} = \lim_{x \rightarrow 0} \frac{\sin^2 x}{x^2} \cdot \frac{2}{\cos x(1 + \cos x)} = \\ &= \lim_{x \rightarrow 0} \frac{\sin x}{x} \cdot \frac{\sin x}{x} \cdot \frac{2}{\cos x(1 + \cos x)} = 1\end{aligned}$$

l'Hospital Regel:

$$\begin{aligned}\lim_{x \rightarrow 0} \frac{2(1 - \cos x)}{x^2 \cos x} &= \lim_{x \rightarrow 0} \frac{[2(1 - \cos x)]'}{[x^2 \cos x]'} = \lim_{x \rightarrow 0} \frac{2 \sin x}{2x \cos x - x^2 \sin x} = \lim_{x \rightarrow 0} \frac{[2 \sin x]'}{[2x \cos x - x^2 \sin x]'} \\ &= \lim_{x \rightarrow 0} \frac{2 \cos x}{2 \cos x - 4x \sin x - x^2 \cos x} = \frac{2}{2} = 1\end{aligned}$$

d)

$$\lim_{n \rightarrow \infty} \frac{\sqrt{n^2 + 1} + \sqrt{n}}{\sqrt[4]{n^3 + n} - n} = \lim_{n \rightarrow \infty} \frac{n\sqrt{1 + \frac{1}{n^2}} + n\sqrt{\frac{1}{n}}}{\sqrt[4]{n^4\left(\frac{1}{n} + \frac{1}{n^3}\right)} - n} = \lim_{n \rightarrow \infty} \frac{\sqrt{1 + \frac{1}{n^2}} + \sqrt{\frac{1}{n}}}{\sqrt[4]{\left(\frac{1}{n} + \frac{1}{n^3}\right)} - 1} = -1;$$

2. Bestimmen Sie den größtmöglichen Definitionsbereich, die Nullstellen, die Symmetrie, das Verhalten für $x \rightarrow \pm\infty$, für $x \rightarrow 0 \pm 0$, für $x \rightarrow 1 \pm 0$ und für $x \rightarrow -1 \pm 0$ von

$$f(x) = \frac{x^4}{(x^2 - 1)|x|}.$$

Erstellen Sie einen Graphen der Funktion f . Falls Unstetigkeitsstellen auftreten, geben Sie deren Typ an.

Lösung

Definitionsbereich: $\mathbb{R} \setminus \{-1, 0, 1\}$;

Symmetrisch $f(x) = f(-x)$.

$x \rightarrow 0 + 0 \quad f(x) \rightarrow 0$;

$x \rightarrow 0 - 0 \quad f(x) \rightarrow 0$;

An $x = 0$ ist hebbare Unstetigkeit. $\Rightarrow f(x) = \frac{x^2|x|}{(x^2 - 1)}$

$$y = x^4 / [(x^2 - 1)|x|]$$

$x \rightarrow +\infty \quad f(x) \rightarrow +\infty$;

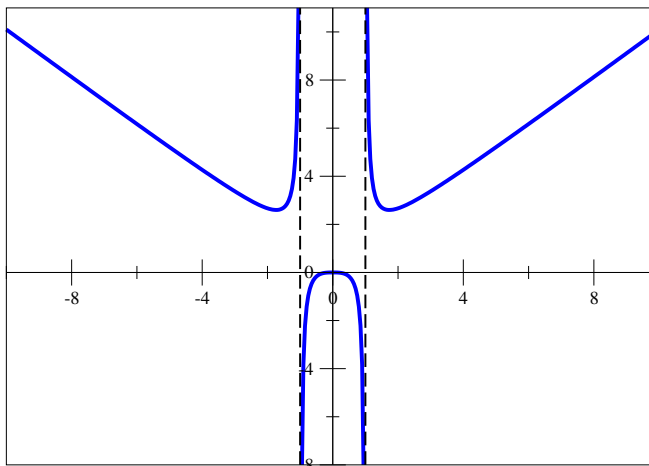
$x \rightarrow -\infty \quad f(x) \rightarrow +\infty$;

$x \rightarrow 1 + 0 \quad f(x) \rightarrow +\infty$;

$x \rightarrow 1 - 0 \quad f(x) \rightarrow -\infty$;

$x \rightarrow -1 + 0 \quad f(x) \rightarrow -\infty$;

$x \rightarrow -1 - 0 \quad f(x) \rightarrow +\infty$;

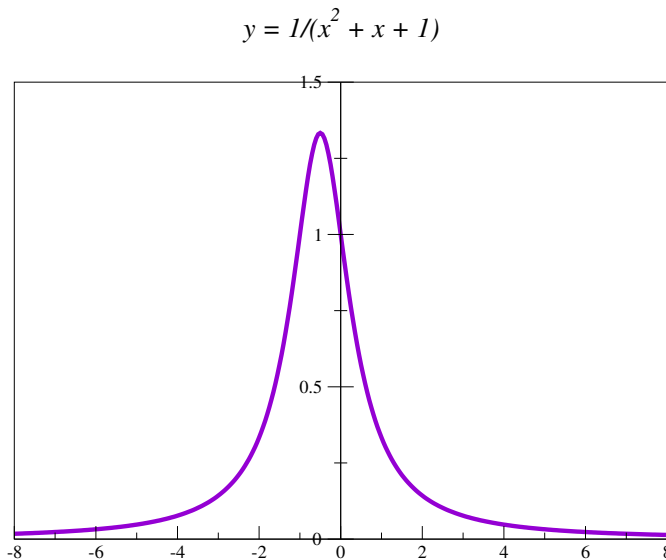


An $x = -1$ und $x = 1$ – die Polen mit Vorzeichenwechsel.

3. Skizzieren Sie die Funktionen und geben Sie den maximalen Definitionsbereich an. Falls Unstetigkeitsstellen auftreten, geben Sie deren Typ an:

a)
$$y = \frac{1}{x^2 + x + 1}$$

 $D_f := \mathbb{R};$

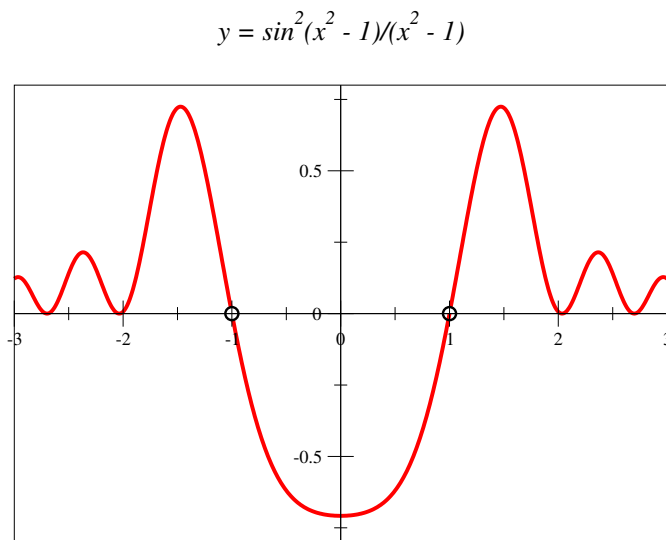


b)
$$y = \frac{\sin^2(x^2 - 1)}{x^2 - 1}$$

 $D_f := \mathbb{R} \setminus \{-1, 1\};$
 An $x = -1$ und $x = 1$ – hebbare Unstetigkeiten.

$$\lim_{x \rightarrow 1} \frac{\sin^2(x^2 - 1)}{x^2 - 1} =$$

$$= \lim_{\delta \rightarrow 0} \frac{\sin((1 \pm \delta)^2 - 1)}{(1 \pm \delta)^2 - 1} \cdot \sin((1 \pm \delta)^2 - 1) = 0$$



c)
$$y = \frac{x^4}{x^2 - x}$$

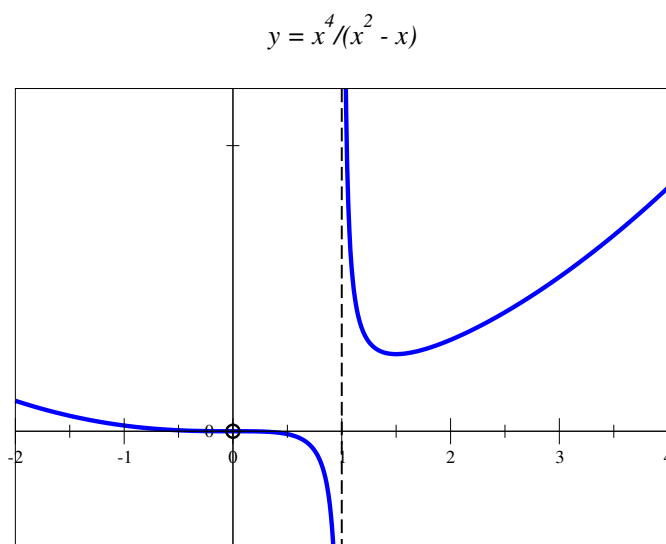
 $D_f := \mathbb{R} \setminus \{0, 1\};$
 An $x = 1$ – Pol mit Vorzeichenwechsel.

$$\lim_{x \rightarrow 1+0} \frac{x^4}{x^2 - x} = +\infty$$

$$\lim_{x \rightarrow 1-0} \frac{x^4}{x^2 - x} = -\infty$$

 An $x = 0$ – hebbare Unstetigkeit.

$$\lim_{x \rightarrow 0 \pm 0} \frac{x^4}{x^2 - x} = 0$$



4. Bestimmen Sie jeweils den rechts- und linksseitigen Grenzwert an der Stelle $x = 0$ für die folgenden Funktionen und schließen Sie auf Stetigkeit.

a) $f(x) = \frac{1}{2}(x + |x|)$

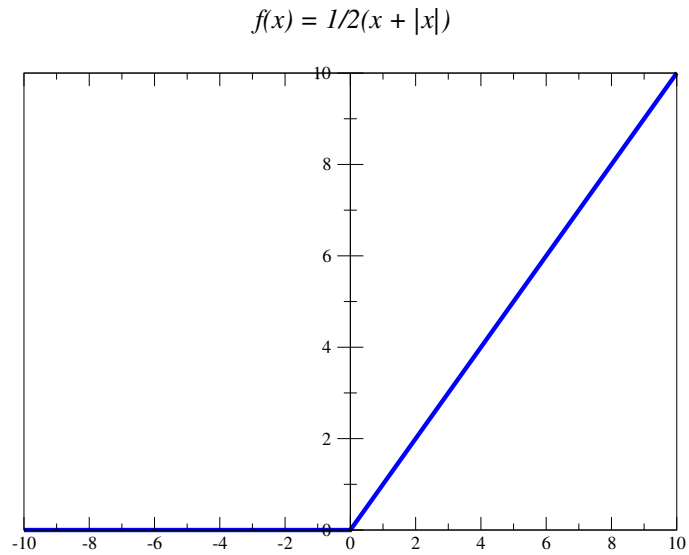
b) $f(x) = \begin{cases} \frac{|x|}{x}(x^2 + 1) & ; x \neq 0 \\ 0 & ; x = 0 \end{cases}$

Lösung

$$f(x) = \frac{1}{2}(x + |x|)$$

$$\lim_{x \rightarrow 0 \pm 0} \frac{1}{2}(x + |x|) = 0$$

Die Funktion ist stetig.



$$f(x) = \begin{cases} \frac{|x|}{x}(x^2 + 1) & ; x \neq 0 \\ 0 & ; x = 0 \end{cases}$$

$$\lim_{x \rightarrow 0+0} \frac{|x|}{x}(x^2 + 1) = 1$$

$$\lim_{x \rightarrow 0-0} \frac{|x|}{x}(x^2 + 1) = -1$$

Die Funktion ist unstetig.

